



..... от II клас



Петьо имал 8 гирлянда,
а Слави – с 13 повече от него.
Колко гирлянда имали двамата заедно?

В магазин за играчки продали 34 колички
и с 16 по-малко– кукли.
Колко играчки всичко са продали?

Катя оцветила 25 картички за Коледа,
а Мария – с 18 картички повече.
Колко картички са оцветили двете заедно?

На елхата закачили 16 червени топки
и с 15 повече – сини топки.
Колко топки общо са закачили на елхата?

В първия чувал на Дядо Коледа имало 28
играчки,
а във втория чувал - с 15 играчки повече.
Колко са играчките в двата чувала?

- Буквите са разместени. Подреди ги.

матдо -

кул -

качуш -

харг -

- Коя дума е пренесена правилно?

- а) ма-йка;
- б) пърза-лка;
- в) лей-ка.

- В кой ред думите не се пренасят?

- а) куче, леля, кокиче;
- б) мия, Ема, стол;
- в) пейка, ваза, ягода.

Думи със звучна съгласна в
края

лебед, кораб, пантоф,
каймак, строг,
таралеж, караи, поп

Думи с беззвучна съгласна в
края

Украси коледната елха.



Думи с беззвучна съгласна в края

лебед, кораб, пантоф,
таралеж, караи, поп
каймак, строг,

Думи със звучна съгласна в края

4. Поправи грешките на Гошко.

Мили Диаво коледа,
Тази гудина ас слушах колкот можах. Молия те
дунесими футболна тобка, телефон с молифче и
истински морски рак с гулеми штипки да щипе
братт ми.

С обиц: Гошо

5. Какви подаръци получиха децата?

компютърна	пуловер
бърза	кукла
говореща	игра
топъл	кола

6. Подчертай думите, които са подходящи за
Дядо Коледа с червено, тези за джуджетата
– със зелено, а за елхичката – със синьо.

помагачи, белобрад, кичеста, пъстра, с пълен
чувал, сръчни, искряща, майстори, добър старец,
красива, празнична, добродушен

Коледни задачи

1. Колко километра ще прелети Дядо Коледа по обозначения маршрут?



--	--	--	--	--	--	--	--	--	--	--	--	--	--	--	--	--	--	--	--

2. Колко подаръка ще получат децата от II клас, ако момчетата са 11, а момичетата са с 1 повече?

--	--	--	--	--	--	--	--	--	--	--	--	--	--	--	--	--	--	--	--

3. Еленът има 2 рога и 4 копита. Колко рога и копита ОБЩО има впрягът на Дядо Коледа, ако е от 7 елена?

- 6
- 42
- 28

Коледа



Легендата разказва:

Преди две хиляди години над земята на евреите изгряла нова звезда. Тя блестяла като скъпоценен камък над град Витлеем. Тази звезда показала на хората, че се е родил техният Спасител – Иисус.

Това била първата свята нощ.

Днес в тази нощ подаръци носи добрият старец – Дядо Коледа.

Коледа се празнува на 25 декември.

Вечерта преди Коледа се нарича Бъдни вечер. Бъдни вечер е един от най-важните семейни празници. По стара традиция на Бъдни вечер се нарежда празничната трапеза, а стопанинът на къщата запалва специален пън в огнището, наречен Бъдник.


Традицията повелява на трапезата да има само постни гозби - 7, 9 или 11. На трапезата задължително присъства обреден хляб, ошав, пълнени чушки с боб, баница с тиква, орехи, пуканки, ябълки и др. постни храни.

Веднага след вечерята из цяла България тръгват коледари.

На Бъдни вечер в полунощ настъпва Коледа.
Честита Коледа!



Състави малко разказче по картинките или разкажи за подаръците, които получи.



Попълнете вертикално кръстословицата и в жълтите квадратчета ще получите отговор на

въпроса:

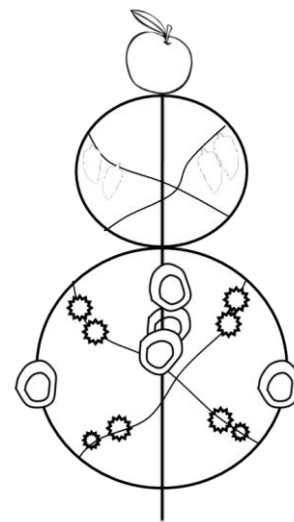
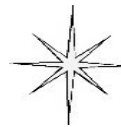
Къде живее Дядо Коледа?

1. Кое животно ни събужда рано сутрин?
2. Какво поставяме на върха на елхата?
3. Какво очаква всяко дете на празника?
4. Какво дръвче украсяваме на Коледа?
5. С какво се придвижва Дядо Коледа?
6. С какво е покрита земята през зимата?

7. Помощник на Дядо Коледа.

8. Кои животни теглят шейната му?

9. Кой е най-чаканият гост в празничната нощ?



Сурва, сурва година,
червена ябълка в градина
едър клас на нива,
голям грозд на лоза,
жълт мамул на леса,
пълна къща с деца!
Живо-здраво до година,
до година, до амина!



Пресметни изразите, за да разбереш колко са месеците в годината.

$$65 - (44 + 16) + 7 =$$

=

=

Пресметни израза, за да разбереш колко са седмиците в годината.

$$(34 + 15) + (96 - 93) =$$

=

=



Реша задачите и разгадай скритото пожелание:



$$(32 + 18) - 26 = \dots\dots\dots - \text{Л}$$

$$(55 + 44) - 9 = \dots\dots\dots - \text{В}$$

$$29 + 1 + 5 = \dots\dots\dots - \text{С}$$

$$(88 - 12) - 75 = \dots\dots\dots - \text{Е}$$

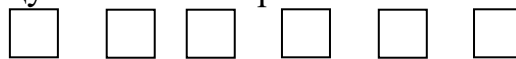
$$(31 - 18) + 14 = \dots\dots\dots - \text{А}$$

$$(81 - 18) + 4 = \dots\dots\dots - \text{О}$$

$$(15 + 15) - 14 = \dots\dots\dots - \text{Д}$$

$$100 - (36 + 26) = \dots\dots\dots - \text{К}$$

Напиши буквата в квадратчето срещу всеки отговор




90 1 35 1 24 27



38 67 24 1 16 27


Треброй геометричните фигури:
Оцветете човечето.




Правоъгълник -




Квадрат -



Триъгълник -



Кръг -



Оцветете картинката



Весела Коледа!